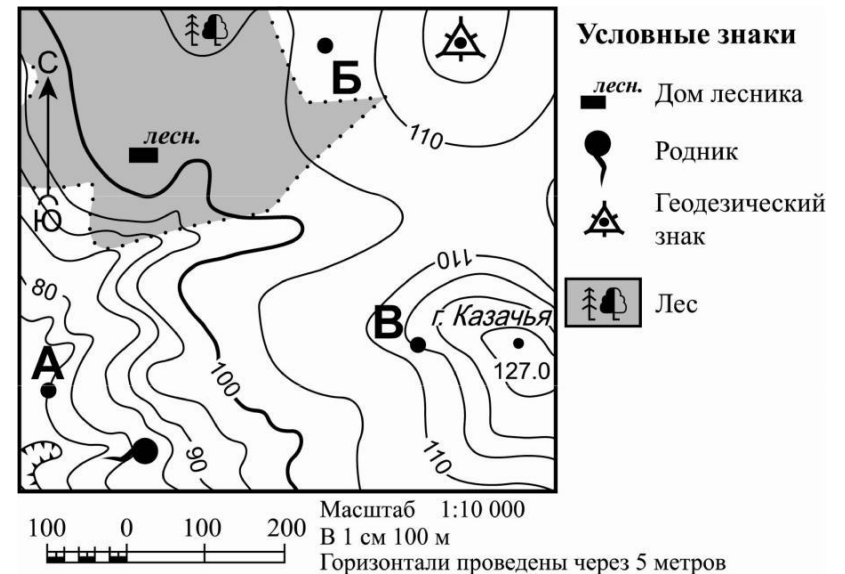


**Демонстрационный вариант диагностической работы
для учащихся 7-х классов по ГЕОГРАФИИ**

Выполняя задания, запишите ответ в указанном месте. Затем перенесите выбранный номер или записанный ответ в бланк тестирования справа от номера задания, начиная с первой клеточки. Каждый символ пишете в отдельной клеточке по образцу, указанному в бланке. Между символами не ставьте запятые и пробелы.

Задания 1 и 2 выполняются с использованием нижеприведённого фрагмента топографической карты.



Определите по карте, в каком направлении от точки А находится родник.

1

Ответ: _____.

Сравните абсолютные высоты точек А, Б и В и расположите эти точки в порядке **повышения** их абсолютных высот.

2

Запишите в таблицу получившуюся последовательность букв.

Ответ:

--	--	--

3 Альпинисты из разных стран планируют восхождение на вершины гор. Известно, что атмосферное давление по мере подъема в горы уменьшается, что приводит к снижению работоспособности человеческого организма. Расположите горы, обозначенные цифрами, в порядке увеличения абсолютной высоты их высочайших вершин.

- 1) Большой Водораздельный хребет
- 2) Альпы
- 3) Кордильеры

Запишите в таблицу получившуюся последовательность цифр.

Ответ:

4 На метеостанциях 1, 2 и 3, расположенных на склоне горы на разной высоте, были одновременно проведены измерения температуры воздуха. Полученные значения показаны в таблице. Расположите эти метеостанции в порядке увеличения их высоты над уровнем моря (от наименьшей к наибольшей).

Метеостанция	Температура воздуха, °С
1	20
2	-1
3	8

Запишите в таблицу получившуюся последовательность цифр.

Ответ:

5 Подводные землетрясения и извержения вулканов могут быть причиной возникновения гигантских морских волн – цунами, несущих угрозу прибрежным городам и посёлкам. В какой из перечисленных стран необходима работа специальных служб по предупреждению населения о цунами?

- 1) Германия
- 2) Болгария
- 3) Япония
- 4) Египет

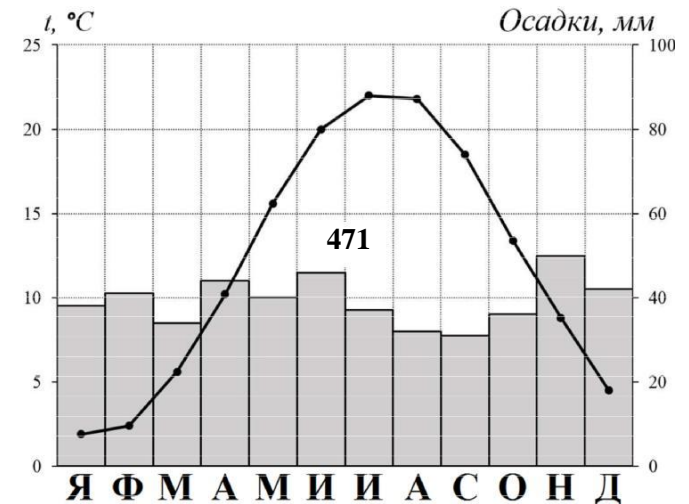
6 Алекс из Великобритании по скайпу хочет поздравить с Новым годом друзей, находящихся в Сиднее (Австралия), Каире (Египет) и у себя на родине в Лондоне. Он планирует поздравить каждого из них ровно в полночь по местному времени этих стран. Расположите города в той последовательности, в которой их жители встречают Новый год.

- 1) Каир
- 2) Сидней
- 3) Лондон

Запишите цифры, которыми обозначены города, в правильной последовательности в таблицу.

Ответ:

Задания 7 и 8 выполняются с использованием приведённой ниже климатограммы.



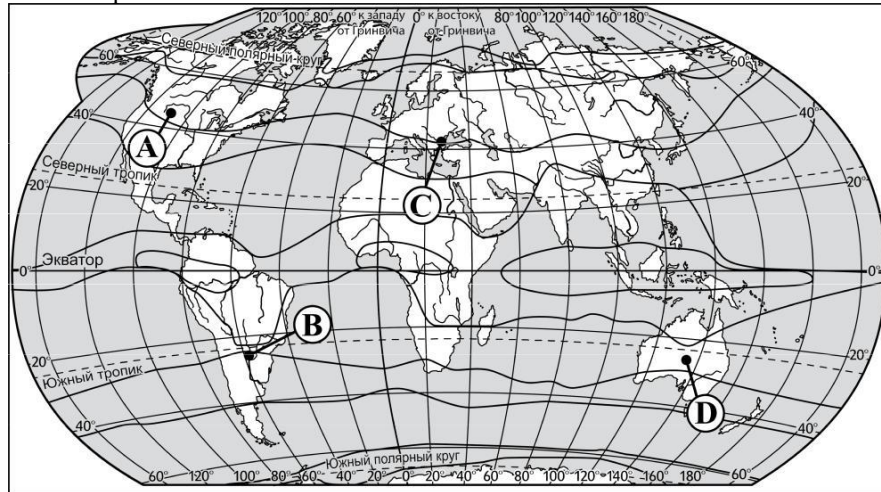
7 Верны ли следующие выводы, сделанные на основе анализа данных приведённой климатограммы?

Вывод А: самые низкие температуры воздуха в феврале.

Вывод Б: минимум выпадения атмосферных осадков приходится на январь.

- 1) верен только вывод А
- 2) верен только вывод Б
- 3) верны оба вывода
- 4) оба вывода неверны

8 Проанализируйте климатограмму и определите, какой буквой на карте обозначен пункт, характеристики климата которого отражены в климатограмме.



1) А 2) В 3) С 4) D

9 На территории какой страны находится значительная часть самой большой по площади низменности на Земле?

Ответ: _____ .

10 Расположите перечисленные природные зоны с севера на юг в том порядке, в котором происходит их чередование на равнинах Северного полушария, начиная с самой северной природной зоны.

- 1) степи и лесостепи
- 2) тундра
- 3) смешанные и широколиственные леса

Запишите цифры, которыми обозначены природные зоны, в правильной последовательности в таблицу.

Ответ:

--	--	--

11 Прочитайте текст, в котором пропущены некоторые слова. Выберите из пронумерованного списка слова, которые необходимо вставить на место пропусков, обозначенных буквами А, Б и В.

Природные зоны умеренного пояса Северной Америки

На востоке умеренного пояса Северной Америки распространены смешанные и широколиственные леса, для которых характерны _____ (А) почвы. В этих зонах _____ (Б) тепла по сравнению с тайгой. Поэтому здесь произрастают дуб, бук, липа, осина, береза, каштан. Зона лесостепей и степей распространяется на крайний юг умеренного пояса, охватывая довольно большое пространство в самом центре континента. Эта природная зона получает значительное количество тепла. А лесостепь еще и хорошо увлажнена. Природная зона лесостепей и степей в Северной Америке называется _____ (В).

Список слов:

- 1) больше
- 2) дерново-подзолистые
- 3) каштановые
- 4) меньше
- 5) прерия
- 6) сельва

Запишите в ответ цифры, соответствующие пропущенным словам, в том порядке, в котором они должны стоять на месте пропусков в тексте, не разделяя их какими-либо символами.

Ответ:

А	Б	В

Задания 12 и С1 выполняются с использованием приведённого ниже текста.

Амазонка – самая полноводная и протяженная река Южной Америки. При впадении в океан Амазонка образует самую большую в мире дельту площадью 100 тыс. км², ширина которой достигает 325 км (это самое широкое речное устье в мире). В устье Амазонки насчитывают тысячи островов, самый большой из них – остров Маражо, имеет площадь равную площади Шотландии.

Амазонка несёт в океан больше воды, чем все реки Европы вместе взятые. В её гигантском устье происходит постоянная борьба солёной и пресной вод. Из космоса поток мутных вод различим в океане за сотни километров от берега. В нижнем течении реки важную роль играют океанские приливы, распространяющиеся вверх на 2 тыс. км. Это привлекает в реку многие виды акул. У реки Амазонки питание в основном дождевое. В верхнем течении важную роль играет снеговое питание. Режим Амазонки интересный и довольно сложный. Река полноводна весь год.

12

В какой океан впадает река Амазонка?

Ответ: _____ океан

Ответ на задание С1 пишите на обратной стороне бланка тестирования. Запишите сначала номер задания, а затем полный развернутый ответ на него.

С1

В верхнем течении реки Амазонки важную роль играет снеговое питание. Объясните, чем это обусловлено.

13

Используя описание и данные нижеприведённой таблицы, определите страну, о которой идет речь.

Эта страна по площади территории входит в первую пятёрку стран мира. Её столица находится в Южном полушарии. Здесь нет действующих вулканов, не происходят землетрясения. Богата запасами каменного угля, железных, медных и алюминиевых руд. Является одной из слабозаселённых стран. Доля городского населения в общей численности населения превышает 85%.

Страна	Площадь территории тыс км ²	Численность населения, млн человек	Доля городского населения в общей численности, %	Средняя плотность населения, человек на км ²
Австралия	7 741	23,9	89	3
ЮАР	1 220	53,7	62	44
Аргентина	2 780	42,7	92	15
Новая Зеландия	269	4,3	86	16
Индонезия	1 904	255,7	54	134

Запишите в ответе название выбранной страны.

Ответ: _____

Перенесите все ответы на задания 1–13 в бланк тестирования.