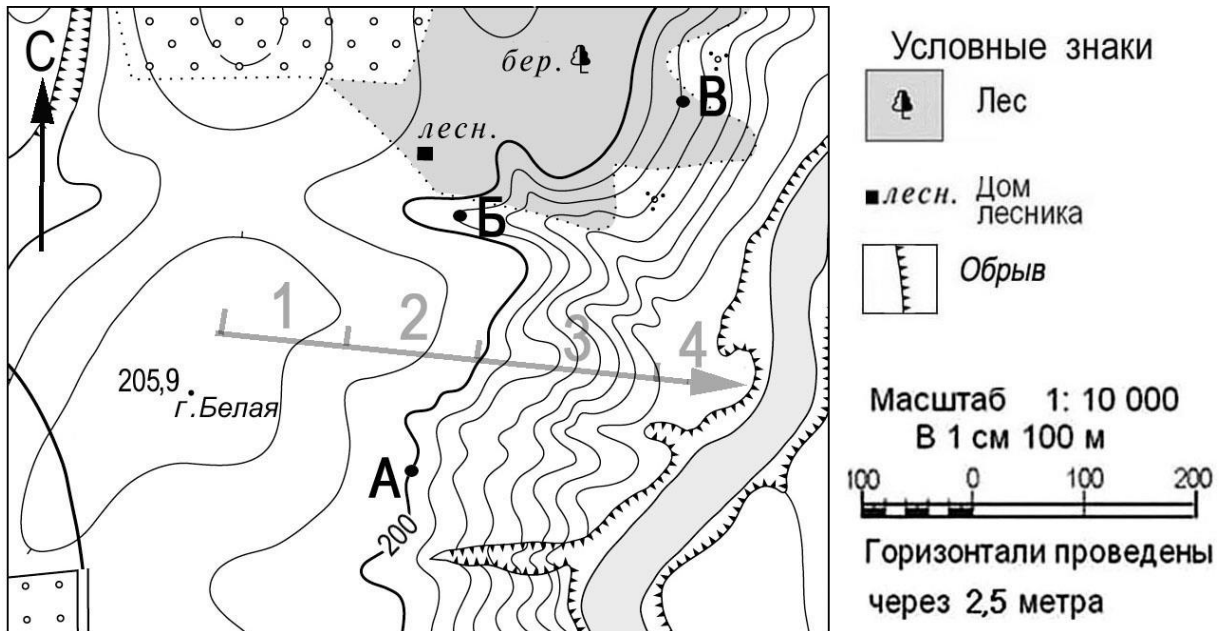


Демонстрационный вариант  
География 5 класс  
2018-2019 учебный год

При выполнении работы разрешается использовать атлас для 5 класса

Задания 1,2 и 3 выполняются с использованием ниже приведенного фрагмента карты.



1. Определите, в каком направлении от вершины горы Белая находится дом лесника. Обведите номер верного ответа.

- 1) север                      2) юго-восток              3) северо-восток              4) северо-запад

2. Сравните абсолютные высоты точек **А**, **Б** и **В**, и расположите эти точки в порядке возрастания их абсолютных высот.

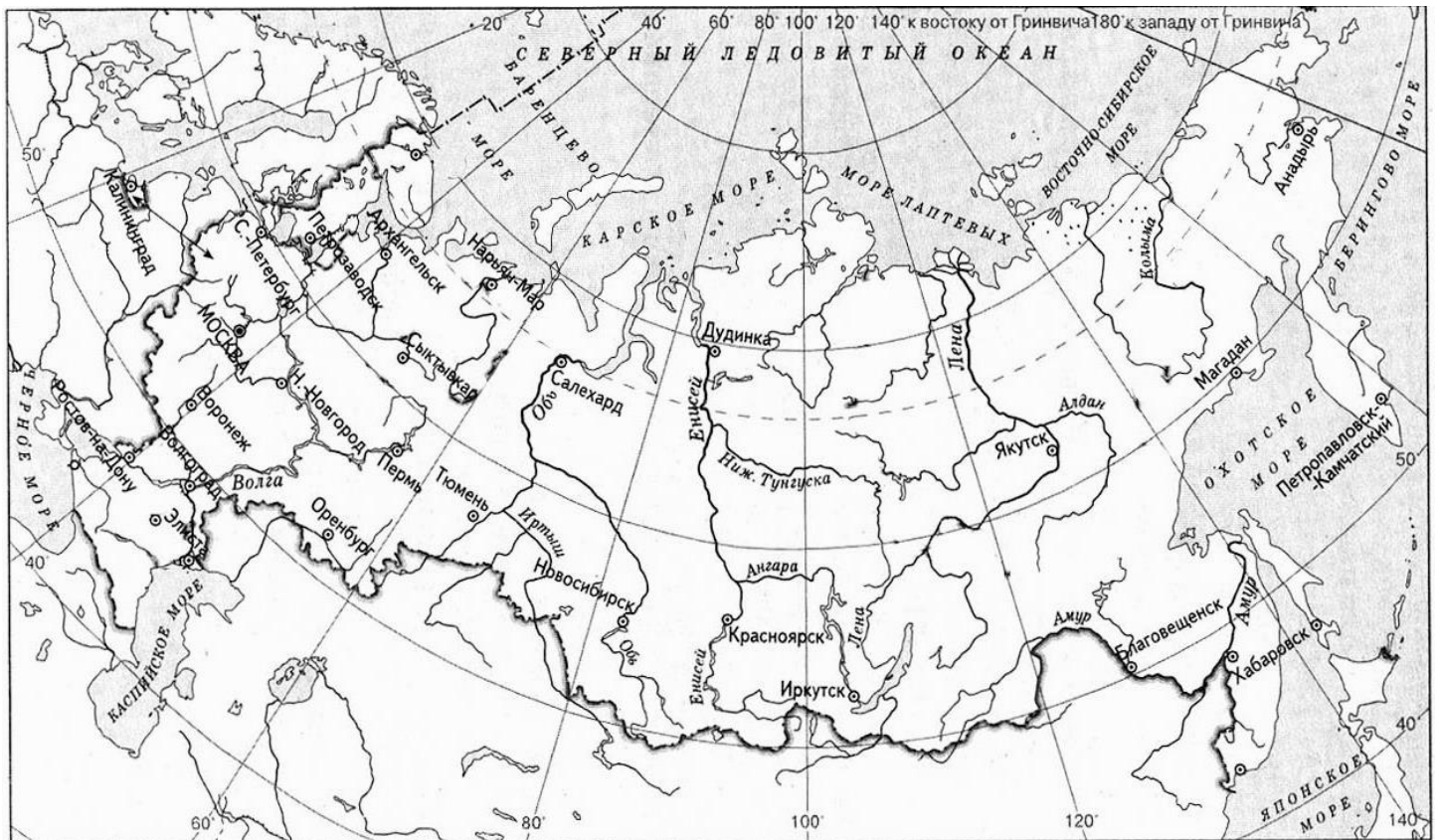
Запишите в таблицу получившуюся последовательность букв

|  |  |  |
|--|--|--|
|  |  |  |
|--|--|--|

3. Туристы спускаются с горы Белая по маршруту, обозначенному стрелкой. На каком из отрезков пути, обозначенных цифрами, их спуск будет наиболее крутым? Обведите номер верного ответа.

- 1) 1                              2) 2                              3) 3                              4) 4

4. Определите, в каком направлении от Воронежа находится город Оренбург.



Обведите номер верного ответа.

- 1) запад      2) юго-запад      3) юго-восток      4) восток

**Задания 5 и 6 выполняются с использованием нижеприведенного фрагмента текста.**

### **Знаменитые путешественники эпохи средневековья**

Первыми систематические географические исследования начали португальцы. Еще в первой половине XV века португальский инфант, вошедший в историю как Генрих Мореплаватель, начал отправлять морские экспедиции к югу вдоль западного побережья Африки. В 1498 году португальская экспедиция под руководством Васко да Гамы смогла достигнуть Индии, обогнув Африку и открыв морской торговый путь в Азию.

В свою первую, ставшую знаменитой, экспедицию на кораблях «Санта Мария», «Нинья» и «Пинта» Христофор Колумб отправился в 1492 году. Во время своих плаваний в 1492-1504 гг. Христофор Колумб обнаружил и ошибочно принял за Индию новые обширные земли. Название этой части света позднее дали картографы Мартин Вальдземюллер и Маттиас Рингманн в 1507 году, возможно, в честь Америго Веспуччи, который первым из европейцев понял, что открытые земли являются не Индией, но «Новым Светом».

В 1519 году моряк-португалец Фернан Магеллан задумал и добился осуществления экспедиции, имеющей целью достичь богатых пряностями Молуккских островов (Юго-Восточная Азия). Двигаясь с востока на запад, он обогнул южную оконечность материка Южная Америка и пересёк Тихий океан. Отважный мореплаватель погиб во время экспедиции. Лишь одно судно и 18

человек команды вернулись домой. Эта экспедиция стала одним из важных подтверждений идеи о шарообразности Земли.

5. Какой из мореплавателей, упомянутых в тексте, открыл морской путь в Индию?

Ответ: \_\_\_\_\_

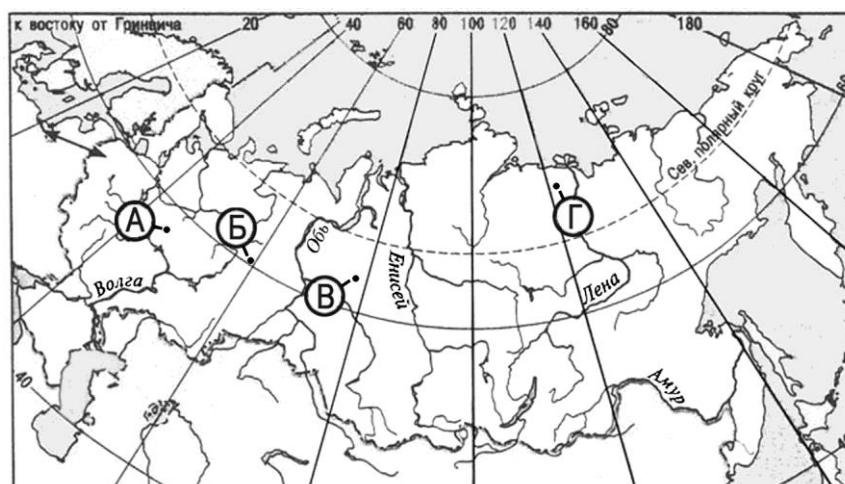
6. Экспедиции, организованные Генрихом Мореплавателем, внесли значительный вклад в географические исследования, в частности, составили и уточнили карты западного побережья Африки. Были ли нанесены на карты, которыми пользовались эти экспедиции, очертания берегов Америки? Дайте обоснование вашего ответа.

Ответ: \_\_\_\_\_

7. Какая из перечисленных горных пород относится к осадочным? Обведите номер верного ответа.

- 1) пемза                      2) гранит                      3) известняк                      4) базальт

8. С помощью карты атласа, определите какая из точек, обозначенных на приведённой ниже карте находится в горах?



Обведите номер верного ответа.

- 1) А                      2) Б                      3) В                      4) Г

**Задания 9 и 10 выполняются с использованием нижеприведенного фрагмента текста.**

В океане у берегов Индонезии в точке с координатами 2°с.ш. 98° в.д. произошло землетрясение силой 8 баллов, за которым последовала серия повторных подземных толчков. Волна, образовавшаяся после землетрясения, обрушилась на рыбацкий посёлок на острове Суматра, разрушив сотни жилых домов.

9. Как называется волна, разрушившая посёлок?

Ответ: \_\_\_\_\_

10. В каком океане произошло землетрясение, описанное в тексте?

Ответ: \_\_\_\_\_

11. Верны ли следующие утверждения о движениях Земли?

А) Осевое вращение Земли — причина смены дня и ночи.

Б) Земля вращается по орбите вокруг Луны.

Обведите номер верного ответа.

1) верно только А

2) верно только Б

3) верны оба утверждения

4) оба утверждения неверны

12. В таблице приведены данные о продолжительности дня 7 февраля в городах России, расположенных на разных широтах.

| Название пункта | Географические координаты | Продолжительность дня 7 февраля |
|-----------------|---------------------------|---------------------------------|
| Сыктывкар       | 62° с.ш.                  | 8 ч. 14 мин.                    |
| Нижневартовск   | 61° с.ш.                  | 8 ч. 21 мин.                    |
| Воронеж         | 52° с.ш.                  | 9 ч. 31 мин.                    |
| Анапа           | 45° с.ш.                  | 10 ч. 04 мин.                   |

Определите, как в феврале на территории России в зависимости от географической широты изменяется продолжительность дня.

Ответ: \_\_\_\_\_

13. Расход электроэнергии на уличное освещение населённых пунктов зависит от времени, на которое его приходится включать в темное время суток. В каком из перечисленных городов 25 ноября уличное освещение необходимо включать на наибольшее время? Обведите номер верного ответа.

1) Красноярск

2) Владивосток

3) Мурманск

4) Рязань

14. Расположите города России в той последовательности, в которой их жители встречают Новый год.

А) Омск

Б) Москва

В) Владивосток

Запишите в таблицу получившуюся последовательность букв.

Ответ: 

|  |  |  |
|--|--|--|
|  |  |  |
|--|--|--|