

Демонстрационный вариант проверочной работы
Математика 2 класс
2018-2019 учебный год

Внимательно читай и выполняй задания! Рядом с некоторыми заданиями стоит значок ☀. Это более трудные задания. Постарайся выполнить все задания. Желаем тебе успеха!

1

Найди закономерность, по которой составлен ряд чисел:

81, 84, 82, 85, 83.

Отметь знаком верное продолжение этого числового ряда.

- 84, 82, 83, 81
- 86, 81, 84, 89
- 86, 84, 87, 85
- 85, 88, 86, 89

2

Прочитай текст.

Продолжительность жизни у животных разная: корова при нормальных условиях может прожить 25 лет, лошадь столько же, а коза всего 10 лет. При идеальных условиях дольше всех проживёт лошадь – 62 года, корова – 35 лет, а коза проживёт 15 лет.

Используя текст, заполни таблицу числовыми данными.

Название животного	Продолжительность жизни	
	при нормальных условиях	при идеальных условиях
Коза		
Лошадь		
Корова		

3

Ученики записали величины 10 дм, 20 см, 12 см в порядке убывания и получили разные ответы.
Отметь верный ответ знаком .

- 10 дм, 12 см, 20 см
- 12 см, 10 дм, 20 см
- 20 см, 12 см, 10 дм
- 10 дм, 20 см, 12 см

4

Найди разность чисел 84 и 67. В ответ запиши только число.

Ответ: _____.

5

Найди значение выражения $1 \cdot 12 + 2 \cdot 10$.
Отметь верный ответ знаком .

- 23
- 32
- 34
- 33

6

У Маши есть такие деньги.

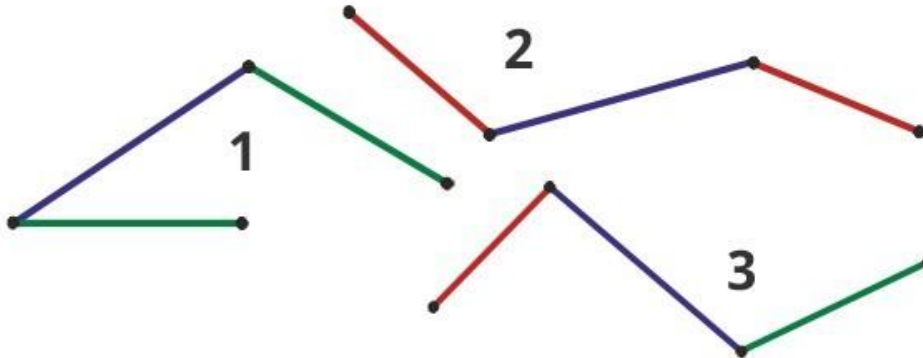


Сможет ли она купить два блокнота по 30 рублей каждый?
Решение задачи записывать не нужно.

Ответ: _____.

9

Отрезки одинакового цвета имеют равную длину. Какая ломаная линия имеет наибольшую длину? В ответ запиши только номер ломаной линии.



Ответ: _____.

10

Числа 88, 28, 38, 82, 8 имеют одно общее свойство. Какое это свойство? Отметь верный ответ знаком .

- запись начинается с цифры 8
- чётные
- двузначные
- нечётные

11

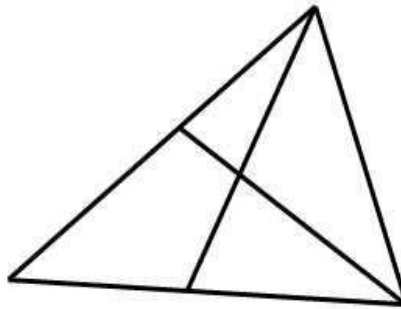
Бабушка испекла оладьи и разложила на каждую тарелку по 3 штуки. Сколько тарелок ей понадобилось? В ответ запиши только число.



Ответ: _____.

12

Сколько треугольников на чертеже?
Отметь верный ответ знаком .



9

7

8

4

13

☀ На двери одного из подъездов многоквартирного дома висит табличка с указанием номеров квартир от № 1 до № 52 включительно.

Трёхкомнатными в этом подъезде оказались квартиры с двузначными номерами, имеющие в записи номера цифру 5. Запиши номера всех трёхкомнатных квартир в этом подъезде.

Ответ: _____.

14



☀ Выбери и отметь знаком все верные утверждения.

- Частное чисел 27 и 3 меньше суммы этих чисел.
- Произведение чисел 5 и 2 равно 7.
- Сумма чисел 23 и 7 больше разности этих чисел.
- Разность чисел 40 и 8 равна 48.
- Сумма чисел 3 и 5 больше их произведения.

15

☀ Света распределяла фигуры по двум группам. В первую группу она записала фигуру № 1, а во вторую группу – фигуру № 2.

Какие ещё фигуры нужно записать в каждую из групп? Продолжи выполнение задания и запиши номера всех остальных фигур для каждой группы. Обрати внимание: номер первой фигуры для каждой группы уже записан.



фигура 1 фигура 2 фигура 3 фигура 4 фигура 5 фигура 6

1-я группа: фигуры № 1, _____.

2-я группа: фигуры № 2, _____.

