

Демонстрационный вариант проверочной работы
Окружающий мир 3 класс
2018-2019 учебный год

Для заданий 1–4, 6-9, 12-15, 20 обведи номер одного правильного ответа.

1

Объектом живой природы является

- 1) дупло в дереве
- 2) гусеница бабочки
- 3) мышиная нора
- 4) крыша дома

2

Укажи, что относится к природным явлениям

- 1) радуга
- 2) гнездо
- 3) лес
- 4) озеро

3

У какого из перечисленных растений плоды или семена «путешествуют» с помощью ветра?

- 1) вишня
- 2) орешник
- 3) репейник
- 4) тополь

4

Во второй половине дня на вопрос: «Сколько времени?» был получен ответ: «Без пятнадцати пять». Как правильно записать цифрами это время?

- 1) 4.45
- 2) 5.45
- 3) 16.45
- 4) 17.45

5

Из предложенного списка выбери три объекта, которые появились в результате человеческой деятельности и обведи цифры, которыми они обозначены.

- 1) заросли травы на поляне
- 2) заливной луг вдоль реки
- 3) поле, засеянное пшеницей
- 4) парк аттракционов
- 5) водохранилище

6

Вращение Земли вокруг своей оси приводит к такому явлению природы, как

- 1) выпадение снега зимой
- 2) смена дня и ночи
- 3) таяние снега весной
- 4) опадение листьев осенью

7

Какая деятельность человека сохраняет природу родного края?

- 1) вырубка леса под строительство дома
- 2) высадка деревьев на месте бывшего карьера
- 3) строительство асфальтовой дороги
- 4) выращивание комнатных растений

8

Полезный для зрения витамин А в большом количестве содержится в таком овоще, как

- 1) капуста
- 2) огурец
- 3) свёкла
- 4) морковь

9

Одно из правил гигиены кожи состоит в том, чтобы

- 1) ежедневно чистить зубы зубной пастой
- 2) носить одежду и обувь в соответствии с погодой
- 3) совершать прогулки перед сном
- 4) регулярно заниматься спортом

10

Из предложенного списка выбери названия органов чувств. Обведи цифры, которыми они обозначены.

- 1) сердце
- 2) глаза
- 3) уши
- 4) кости
- 5) нос

11

В таблице справа от названия органа поставь цифру **1**, если он относится к органам дыхания, и цифру **2**, если к органам пищеварения

носовая полость	
желудок	
лёгкие	
язык	

12

Какая из площадей Москвы находится на Садовом кольце

- 1) Лубянская
- 2) Манежная
- 3) Красная
- 4) Таганская

13

Укажи какой и проспектов ведёт нас на запад Москвы?

- 1) Кутузовский
- 2) Рязанский
- 3) Волгоградский
- 4) пр-т Мира

14

В средние века в России велись ежегодные записи происходивших событий. Они назывались

- 1) былины
- 2) летописи
- 3) сказки
- 4) повести

15

Что из перечисленного является народной приметой?

- 1) отлёт перелётных птиц к местам зимовки
- 2) снегопад поздней осенью
- 3) строительство гнёзд птицами весной и в начале лета
- 4) урожай плодов рябины к суровой зиме

16

Укажи места, где **небезопасно** играть после школы. Обведи три цифры, которыми они обозначены.

- 1) площадка для спортивных игр
- 2) железнодорожная платформа
- 3) пустырь рядом с дорогой
- 4) спортивная площадка во дворе школы
- 5) ледяная горка на берегу реки

17

Используя слова для выбора, вставь вместо букв (А, Б, В, Г) слова, подходящие по смыслу. Окончания могут меняться. Ответ запиши в таблицу (под буквой надо записать одну цифру).

Санкт-Петербург часто называют культурной столицей России. Этот город расположен на берегах **А**. Историческим центром Санкт-Петербурга является **Б**. Это сооружение долгие годы

служило тюрьмой, а сейчас там располагается музей. Главная площадь Санкт-Петербурга – **В**, где расположен Зимний дворец, в стенах которого находится известный на весь мир музей – **Г**.

Слова для выбора:

- 1) Дворцовая
- 2) Петропавловская крепость
- 3) Москва-река
- 4) Нева
- 5) Эрмитаж
- 6) Русский музей

<u>А</u>	<u>Б</u>	<u>В</u>	<u>Г</u>

18

Приведи примеры двух достопримечательностей, расположенных на Красной площади.

Ответ: _____




19

Укажите **три** события, которые происходили в XX веке.

- 1) Великая Отечественная война 1941-1945 гг
- 2) Бородинское сражение 1812 г.
- 3) Полет Юрия Гагарина в космос в 1961 г.
- 4) Строительство Кремля из красного кирпича в 1485-1495 гг
- 5) Открытие станций первой линии Московского метрополитена (1931-1935 гг.)

20

Используя приведенную таблицу, выберите верное утверждение о погоде в среду, 2 июня.

Время суток	Ночь	Утро	День	Вечер
Облачность и осадки				
Температура, °С	21	23	23	22
Ветер				
	С	С	СВ	С
Влажность, %	79	71	57	77

- 1) Ветер на протяжении суток не меняет своего направления.
- 2) Влажность воздуха не изменится в течение всего дня.
- 3) Днём будет облачно с прояснениями.
- 4) Температура воздуха не поднимется выше 21°C.